

2018학년도 9월 고1 전국연합학력평가 정답 및 해설

수학 영역

정답

1	③	2	⑤	3	②	4	③	5	④
6	④	7	①	8	①	9	①	10	③
11	③	12	⑤	13	①	14	②	15	⑤
16	④	17	③	18	②	19	②	20	⑤
21	②	22	15	23	4	24	14	25	22
26	9	27	6	28	125	29	2	30	43

해설

1. [출제의도] 복소수 계산하기
 $(1+2i) + (3-i) = (1+3) + \{2+(-1)\}i = 4+i$
2. [출제의도] 다항식의 인수분해 계산하기
 $x^3 - 27 = (x-3)(x^2 + 3x + 9)$ 이므로
 $a = 3, b = 9$
 따라서 $a+b = 12$
3. [출제의도] 다항식의 연산 계산하기
 $A+B = (x^2 - 2x - 4) + (2x - 3) = x^2 - 7$
4. [출제의도] 두 점 사이의 거리 계산하기
 $AB = \sqrt{(0-2)^2 + (a-0)^2} = \sqrt{13}$ 이므로
 $a^2 + 4 = 13$
 $a^2 = 9 (a > 0)$
 따라서 $a = 3$
5. [출제의도] 항등식의 성질 이해하기
 주어진 등식의 우변을 x 에 대하여 정리하면
 $2x^2 + 3x + 4 = 2x^2 + (4+a)x + (2+a+b)$
 항등식의 성질을 이용하여 양변의 동류항의 계수를 비교하면
 $4+a = 3, 2+a+b = 4$
 즉, $a = -1, b = 3$
 따라서 $a-b = -4$
6. [출제의도] 이차방정식의 근의 판별 이해하기
 이차방정식 $x^2 + 4x + k - 3 = 0$ 이 실근을 가지려면 판별식을 D 라 할 때,
 $\frac{D}{4} = 4 - (k-3) \geq 0$ 즉, $k \leq 7$
 따라서 자연수 k 의 개수는 7
7. [출제의도] 도형의 대칭이동 이해하기
 직선 $y = ax - 6$ 을 x 축에 대하여 대칭이동한 직선은 $y = -ax + 6$ 이고, 이 직선이 점 $(2, 4)$ 를 지나므로 $4 = -2a + 6$
 따라서 $a = 1$
8. [출제의도] 이차방정식의 근과 계수의 관계 이해하기
 이차방정식 $x^2 + 3x + 1 = 0$ 의 두 실근이 α, β 이므로 근과 계수의 관계에 의하여
 $\alpha + \beta = -3, \alpha\beta = 1$
 $\alpha^2 + \beta^2 - 3\alpha\beta = (\alpha + \beta)^2 - 5\alpha\beta = (-3)^2 - 5 \times 1 = 4$
9. [출제의도] 점의 대칭이동 이해하기
 $A(2, 3), B(-2, -3)$ 이므로

$$AB = \sqrt{(-2-2)^2 + (-3-3)^2} = 2\sqrt{13}$$

10. [출제의도] 절댓값을 포함한 일차부등식 이해하기
 부등식 $|3x-2| \leq a (a > 0)$ 를 풀면
 $\frac{-a+2}{3} \leq x \leq \frac{a+2}{3}$ 이므로
 $\frac{a+2}{3} = 2, \frac{-a+2}{3} = b$
 즉, $a = 4, b = -\frac{2}{3}$
 따라서 $a+b = \frac{10}{3}$
 11. [출제의도] 복소수의 연산을 이용하여 수학 외적 문제 해결하기
 $2-3i, 1+2i, 6+9i$ 에서
 $(2-3i)(6+9i) = 39$
 따라서 $a = 39$
 12. [출제의도] 이차함수의 그래프 이해하기
 두 이차함수 $y = -(x-1)^2 + a,$
 $y = 2(x-1)^2 - 1$ 의 그래프의 축의 방정식은 $x=1$ 로 서로 같다.
 그림과 같이 두 이차함수의 그래프의 교점을 각각 A, B라 하면
 두 점 A, B 사이의 거리가 4이므로
 두 점 A, B의 x 좌표는 각각 $-1, 3$
 $x=3$ 일 때, 두 이차함수의 함숫값이 같으므로
 $-(3-1)^2 + a = 2(3-1)^2 - 1$
 따라서 $a = 11$
-
13. [출제의도] 연립방정식 이해하기
 $\begin{cases} x^2 - 3xy + 2y^2 = 0 & \dots \text{㉠} \\ 2x^2 - y^2 = 2 & \dots \text{㉡} \end{cases}$
 ㉠의 좌변을 인수분해하면
 $(x-y)(x-2y) = 0$ 에서
 $y = x$ 또는 $y = \frac{1}{2}x$
 i) $y = x$ 일 때 ㉡에 대입하면
 $x^2 = 2, y^2 = 2$
 따라서 $\alpha^2 + \beta^2 = 4$
 ii) $y = \frac{1}{2}x$ 일 때 ㉡에 대입하면
 $x^2 = \frac{8}{7}, y^2 = \frac{2}{7}$
 따라서 $\alpha^2 + \beta^2 = \frac{10}{7}$
 i), ii)에서 $\alpha^2 + \beta^2$ 의 최댓값은 4
 14. [출제의도] 이차함수의 그래프와 직선의 위치 관계를 이용하여 수학 내적 문제 해결하기
 x 에 대한 이차함수 $y = x^2 - 4kx + 4k^2 + k$ 의

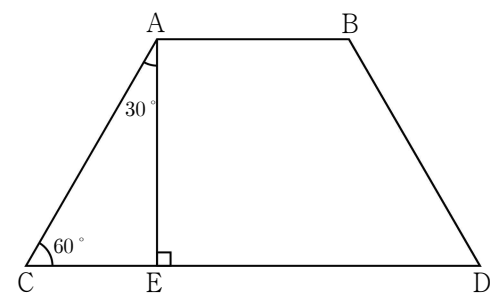
그래프와 직선 $y = 2ax + b$ 가 접하려면 이차방정식 $x^2 - 2(2k+a)x + 4k^2 + k - b = 0$ 의 판별식을 D 라 할 때,
 $\frac{D}{4} = (2k+a)^2 - 4k^2 - k + b = (4a-1)k + a^2 + b = 0 \dots \text{㉠}$
 ㉠이 k 의 값에 관계없이 성립하므로
 $a = \frac{1}{4}, b = -\frac{1}{16}$
 따라서 $a+b = \frac{3}{16}$

15. [출제의도] 선분의 내분을 이용하여 수학 내적 문제 해결하기
 직선 $3x+4y-12=0$ 이 x 축, y 축과 만나는 점은 각각 $A(4, 0), B(0, 3)$ 이므로
 선분 AB를 2:1로 내분하는 점은 $P(\frac{4}{3}, 2)$
 점 P를 x 축, y 축에 대하여 대칭이동한 점은 각각 $Q(\frac{4}{3}, -2), R(-\frac{4}{3}, 2)$ 이므로
 삼각형 RQP의 무게중심의 좌표 (a, b) 는 $(\frac{4}{9}, \frac{2}{3})$
 따라서 $a+b = \frac{10}{9}$

16. [출제의도] 선분의 내분을 이용하여 수학 내적 문제 해결하기
 조건 (가)에 의해 $\triangle ADE \sim \triangle ABC$
 조건 (나)에 의해
 삼각형 ADE와 삼각형 ABC의 넓이의 비가 1:9이므로 두 삼각형의 닮음비는 1:3
 점 E는 선분 AC를 1:2로 내분하는 점이므로 $E(4, 3)$
 직선 BE의 방정식은 $y = \frac{1}{2}x + 1$
 따라서 $k = \frac{1}{2}$

17. [출제의도] 나머지정리를 이용하여 수학 내적 문제 해결하기
 $f(x)$ 는 이차식, $g(x)$ 는 일차식이므로
 $f(x) - g(x) = 0$ 은 이차방정식이고
 조건 (가)에 의해
 $f(x) - g(x) = a(x-1)^2 (a \text{는 상수}) \dots \text{㉠}$
 조건 (나)에 의해 $f(2) = 2, g(2) = 5$
 ㉠에 $x=2$ 를 대입하면
 $f(2) - g(2) = a$ 즉, $a = -3$
 $f(x) - g(x) = -3(x-1)^2$
 나머지정리에 의해 $f(-1) - g(-1) = -12$
 따라서 -12

18. [출제의도] 연립부등식을 이용하여 수학 외적 문제 해결하기
 점 A에서 선분 CD에 내린 수선의 발을 E라 하자.



사각형 ACDB는 등변사다리꼴이고,

중앙 스크린의 가로인 선분 AB의 길이가 $d(d > 0)$ 이므로

$$\overline{CE} = 10 - \frac{1}{2}d, \overline{AE} = \sqrt{3}\left(10 - \frac{1}{2}d\right)$$

$$\overline{AC} = 2\left(10 - \frac{1}{2}d\right)$$

$$d \leq 4 \times 2\left(10 - \frac{1}{2}d\right) \text{ 이므로}$$

$$d \leq 16 \dots \textcircled{7}$$

사다리꼴 ACDB의 넓이가 $75\sqrt{3}$ 이하이므로

$$\frac{1}{2} \times (d+20) \times \sqrt{3}\left(10 - \frac{1}{2}d\right) \leq 75\sqrt{3}$$

$$\text{즉, } d \leq -10 \text{ 또는 } d \geq 10 \dots \textcircled{8}$$

$$\textcircled{7}, \textcircled{8} \text{에 의해 } d \leq -10 \text{ 또는 } 10 \leq d \leq 16$$

$$d > 0 \text{ 이므로 } 10 \leq d \leq 16$$

따라서 d 의 최댓값과 최솟값의 합은 26

19. [출제의도] 원과 직선의 위치 관계를 이용하여 추론하기

그림과 같이 세 점 O, A, B를 지나는 원 C의

방정식은 $(x-3)^2 + (y+4)^2 = 25$ 이므로

선분 OA는 원 C의 지름이다.

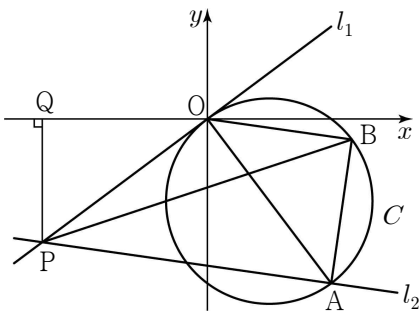
직선 l_1 은 직선 OA와 수직이고 점 O를 지나므로

$$\text{직선 } l_1 \text{의 방정식은 } y = \frac{3}{4}x \text{ 이다.}$$

점 A를 지나고 직선 OB와

평행한 직선을 l_2 라 하면, 두 직선 l_1, l_2 가

만나는 점이 두 삼각형 OAB와 OPB의 넓이가 같게 되는 점 P이다.



직선 l_2 의 기울기와 직선 OB의 기울기는 같고, 직선 l_2 는 점 A를 지나므로

$$y - (-8) = -\frac{1}{7}(x - 6)$$

$$\text{즉, 직선 } l_2 \text{의 방정식은 } y = -\frac{1}{7}x - \frac{50}{7} \text{ 이다.}$$

점 P는 두 직선 l_1, l_2 가 만나는 점이므로

점 P의 x 좌표는

$$\text{방정식 } -\frac{1}{7}x - \frac{50}{7} = \frac{3}{4}x \text{의 근이다.}$$

$$\text{즉, 점 P의 } x \text{좌표는 } -8 \text{ 이다.}$$

$$\text{따라서 선분 QO의 길이는 } | -8 | \text{ 이다.}$$

$$\text{따라서 } f(x) = \frac{3}{4}x, g(x) = -\frac{1}{7}x - \frac{50}{7}$$

$$k = -8 \text{ 이므로}$$

$$f(2k) + g(-1) = -19$$

20. [출제의도] 이차함수의 그래프와 직선의 위치 관계를 이용하여 추론하기

ㄱ. 최고차항의 계수가 1이고 x 축과 만나는 점의 x 좌표가 1, a 이므로

$$f(x) = (x-1)(x-a)$$

$$\text{따라서 } f(2) = 2 - a \text{ (참)}$$

ㄴ. 이차함수 $y = f(x)$ 의 축의 방정식이

$$x = \frac{a+1}{2} \text{ 이므로}$$

$$\text{점 P의 } x \text{좌표는 } \frac{a+1}{2} \dots \textcircled{1}$$

이차함수 $y = f(x)$ 와 직선 PB의 방정식을 연립하여 정리하면

$$(x-1)(x-a) = m(x-a)$$

$$(x-a)(x-1-m) = 0 \text{ 에서}$$

$$x = a \text{ 또는 } x = m+1 \text{ 이므로}$$

$$\text{점 P의 } x \text{좌표는 } m+1 \dots \textcircled{2}$$

$$\textcircled{1}, \textcircled{2} \text{에 의해 } a = 2m+1 \dots \textcircled{3}$$

이차함수 $y = f(x)$ 와 직선 AQ의 방정식을 연립하여 정리하면

$$(x-1)(x-a) = m(x-1)$$

$$(x-1)(x-m-a) = 0 \text{ 에서}$$

$$x = 1 \text{ 또는 } x = m+a \text{ 이므로}$$

$$\text{두 점 Q, R의 } x \text{좌표는 } m+a$$

$$\textcircled{3} \text{에 의해 } \overline{AR} = (a+m) - 1 = 3m \text{ (참)}$$

$$\text{ㄷ. } \overline{BR} = m, \overline{QR} = m(a+m-1) = 3m^2 \text{ 이고,}$$

삼각형 BRQ의 넓이가 $\frac{81}{2}$ 이므로

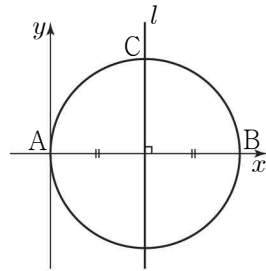
$$\frac{1}{2} \times m \times 3m^2 = \frac{81}{2}$$

$$\text{즉, } m = 3, a = 7$$

$$\text{따라서 } a+m = 10 \text{ (참)}$$

21. [출제의도] 원의 성질을 이용하여 추론하기

i) $a = 0$ 일 때, 직선 l 의 방정식은 $x = \frac{3}{2}$



$$\overline{OC} = \frac{3}{2}\sqrt{2}$$

ii) $a \neq 0$ 일 때,

$$\angle AOB = \angle ACB = 90^\circ \text{ 이므로}$$

네 점 A, O, B, C가 한 원 위에 있고,

선분 AB는 이 원의 지름이다.

이 원의 방정식은

$$\left(x - \frac{3}{2}\right)^2 + \left(y - \frac{a}{2}\right)^2 = \frac{a^2 + 9}{4} \dots \textcircled{1}$$

$\overline{AC} = \overline{BC}$ 이므로 점 C는 선분 AB의 수직이등분선 l 과 원이 만나는 점이다.

$$\text{직선 } l \text{의 방정식은 } y - \frac{a}{2} = \frac{3}{a}\left(x - \frac{3}{2}\right) \dots \textcircled{2}$$

$\textcircled{1}, \textcircled{2}$ 에 의해

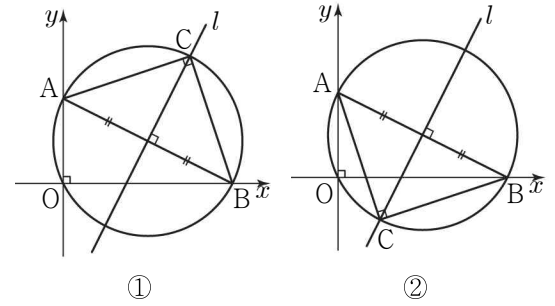
$$\left(x - \frac{3}{2}\right)^2 + \frac{9}{a^2}\left(x - \frac{3}{2}\right)^2 = \frac{a^2 + 9}{4}$$

$$\left(x - \frac{3}{2}\right)^2 = \frac{a^2}{4}$$

$$x = \frac{3+a}{2} \text{ 또는 } x = \frac{3-a}{2}$$

$\textcircled{2}$ 에 대입하면 점 C의 좌표는

$$C\left(\frac{3+a}{2}, \frac{3+a}{2}\right) \text{ 또는 } C\left(\frac{3-a}{2}, -\frac{3-a}{2}\right)$$



$\textcircled{1}$ $C\left(\frac{3+a}{2}, \frac{3+a}{2}\right)$ 일 경우

$$\overline{OC} = \sqrt{\left(\frac{3+a}{2}\right)^2 + \left(\frac{3+a}{2}\right)^2} = \sqrt{2} \left| \frac{3+a}{2} \right|$$

$$-1 \leq a \leq 2 (a \neq 0) \text{ 이므로}$$

$$\sqrt{2} \leq \overline{OC} < \frac{3\sqrt{2}}{2}$$

또는

$$\frac{3\sqrt{2}}{2} < \overline{OC} \leq \frac{5\sqrt{2}}{2}$$

$\textcircled{2}$ $C\left(\frac{3-a}{2}, -\frac{3-a}{2}\right)$ 일 경우

$$\overline{OC} = \sqrt{\left(\frac{3-a}{2}\right)^2 + \left(-\frac{3-a}{2}\right)^2} = \sqrt{2} \left| \frac{3-a}{2} \right|$$

$$-1 \leq a \leq 2 (a \neq 0) \text{ 이므로}$$

$$\frac{\sqrt{2}}{2} \leq \overline{OC} < \frac{3\sqrt{2}}{2}$$

또는

$$\frac{3\sqrt{2}}{2} < \overline{OC} \leq 2\sqrt{2}$$

$$\text{i), ii)에 의해 } M = \frac{5}{2}\sqrt{2}, m = \frac{\sqrt{2}}{2}$$

$$\text{따라서 } \frac{M}{m} = 5$$

22. [출제의도] 다항식의 연산 계산하기

$$(x+6)(2x^2+3x+1) = 2x^3 + 15x^2 + 19x + 6$$

따라서 x^2 의 계수는 15

23. [출제의도] 인수정리 이해하기

$$f(x) = x^3 - 2x - a \text{ 라 하면}$$

$$\text{인수정리에 의해 } f(2) = 8 - 4 - a = 0$$

$$\text{따라서 } a = 4$$

24. [출제의도] 원과 직선의 위치 관계를

이용하여 수학 내적 문제 해결하기

직선 $y = 2x + k$ 를 x 축의 방향으로 2만큼,

y 축의 방향으로 -3만큼 평행이동한

직선의 방정식은 $y + 3 = 2(x - 2) + k$

직선 $2x - y - 7 + k = 0$ 이 원과 한 점에서 만나므로

$$\frac{|-7+k|}{\sqrt{2^2+(-1)^2}} = \sqrt{5} \text{ 즉, } |-7+k| = 5$$

$$k = 2 \text{ 또는 } k = 12$$

따라서 모든 상수 k 의 값의 합은 14

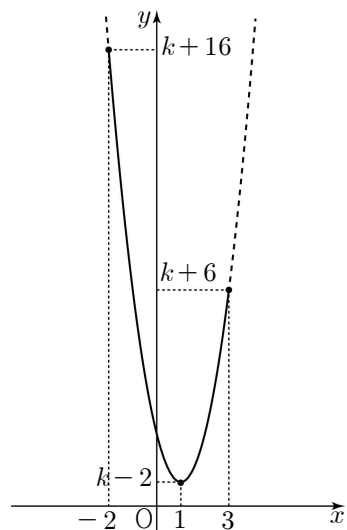
25. [출제의도] 이차함수의 최대, 최소 이해하기

$$f(x) = 2x^2 - 4x + k = 2(x-1)^2 + k - 2$$

이차함수의 그래프의 꼭짓점의

x 좌표 1은 주어진 x 의 값의 범위에 속한다.


$$f(-2) = k + 16, f(1) = k - 2, f(3) = k + 6$$



함수 $f(x)$ 의 최솟값은
 $f(1) = k - 2 = 1$ 이므로 $k = 3$
 함수 $f(x)$ 의 최댓값은
 $M = f(-2) = 16 + k = 19$
 따라서 $k + M = 22$

26. [출제의도] 연립부등식 이해하기

$3x - 1 < 5x + 3$ 에서 $x > -2$... ㉠
 $5x + 3 \leq 4x + a$ 에서 $x \leq a - 3$... ㉡
 두 부등식 ㉠, ㉡을 만족시키는 정수 x 의 개수가 8이 되도록 수직선 위에 나타내면



$6 \leq a - 3 < 7$
 $9 \leq a < 10$
 따라서 $a = 9$

27. [출제의도] 원과 직선의 위치 관계를 이용하여 수학 내적 문제 해결하기

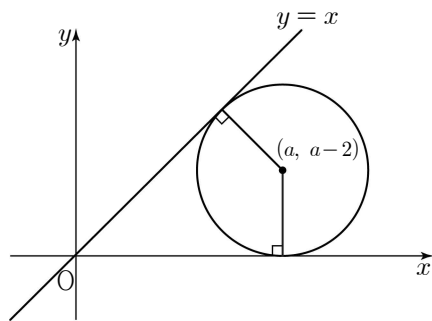
원 $(x - a)^2 + (y - a)^2 = b^2$ 을 y 축의 방향으로 -2 만큼 평행이동한 도형은 중심이 $(a, a - 2)$, 반지름이 $a - 2$ ($a > 2$)인 원이다.
 또한 이 원이 직선 $y = x$ 와 접하므로

$$\frac{|a - (a - 2)|}{\sqrt{1^2 + (-1)^2}} = a - 2$$

$$a = 2 + \sqrt{2}$$

$$b = a - 2 = \sqrt{2}$$

따라서 $a^2 - 4b = 6$



28. [출제의도] 이차함수의 그래프와 직선의 위치 관계를 이용하여 수학 내적 문제 해결하기

직선 l_1 의 기울기를 m 이라 하면
 직선 l_1 의 방정식은
 $y - 1 = m(x - 1)$
 직선 l_1 이 이차함수 $y = x^2$ 의 그래프와 접하므로 이차방정식 $x^2 - mx + m - 1 = 0$ 의 판별식을 D 라 할 때
 $D = (-m)^2 - 4(m - 1) = (m - 2)^2 = 0$
 즉, $m = 2$
 직선 l_1 의 방정식은 $y = 2x - 1$ 이므로
 $Q(0, -1)$

두 직선 l_1, l_2 가 서로 수직이므로 직선 l_2 의 기울기는 $-\frac{1}{2}$

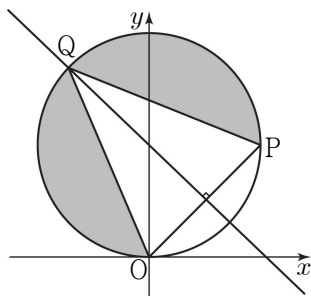
직선 l_2 의 방정식은 $y = -\frac{1}{2}x + \frac{3}{2}$ 이고
 $y = x^2$ 과 연립하여 정리하면
 $2x^2 + x - 3 = 0$
 $(x - 1)(2x + 3) = 0$ 이므로 $R(-\frac{3}{2}, \frac{9}{4})$

$$\Delta PRQ = \frac{1}{2} \times \overline{PQ} \times \overline{PR}$$

$$= \frac{1}{2} \times \sqrt{5} \times \frac{5\sqrt{5}}{4} = \frac{25}{8}$$

따라서 $40S = 125$

29. [출제의도] 원과 직선의 위치 관계를 이용하여 추론하기



직선 $y = mx - m + 1 = m(x - 1) + 1$ 은 m 의 값에 관계없이 점 $(1, 1)$ 을 지난다.
 점 P의 x 좌표는 점 Q의 x 좌표보다 크므로 $P(1, 1)$

$S_1 = S_2$ 이므로 $\overline{PQ} = \overline{OQ}$
 삼각형 PQO가 이등변삼각형이므로
 선분 OP의 수직이등분선은 점 Q를 지난다.
 선분 OP를 수직이등분하는 직선의 방정식은

$$y - \frac{1}{2} = -\left(x - \frac{1}{2}\right)$$

즉, $y = -x + 1$... ㉠

㉠을 $x^2 + (y - 1)^2 = 1$ 에 대입하여 정리하면
 $x^2 + (-x + 1 - 1)^2 = 1$

$$\text{즉, } x = -\frac{1}{\sqrt{2}} \text{ 또는 } x = \frac{1}{\sqrt{2}}$$

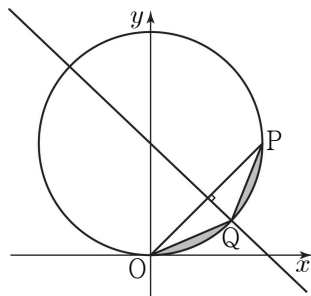
$$Q\left(-\frac{1}{\sqrt{2}}, 1 + \frac{1}{\sqrt{2}}\right) \text{ 또는 } Q\left(\frac{1}{\sqrt{2}}, 1 - \frac{1}{\sqrt{2}}\right)$$

m 은 직선 PQ의 기울기이므로

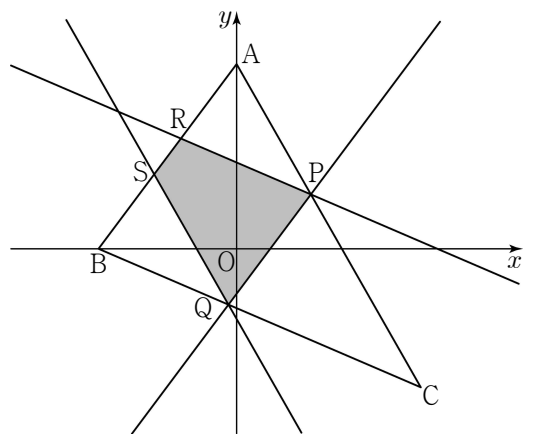
$$m = 1 - \sqrt{2} \text{ 또는 } m = 1 + \sqrt{2}$$

따라서 모든 실수 m 의 값의 합은 2

참고로 $m = 1 + \sqrt{2}$ 일 때의 그림은 아래와 같다.



30. [출제의도] 이차함수의 최대, 최소를 이용하여 수학 내적 문제 해결하기



$\overline{AB} = 5$

선분 PQ의 길이를 a 라 하면,

사각형 PRSQ는 사다리꼴이므로 $\frac{5}{2} < a < 5$

점 C와 직선 AB사이의 거리는 $\frac{37}{5}$... ㉠

삼각형 ABC와 삼각형 PQC는
 닮음비가 5:a인 닮은 도형이므로

점 C와 직선 PQ사이의 거리는 $\frac{37}{25}a$... ㉡

㉠, ㉡에 의해

사다리꼴 PRSQ의 높이는 $\frac{37}{5} - \frac{37}{25}a$

두 사각형 BQPR와 SQPA는
 각각 평행사변형이므로

$$\overline{BS} + \overline{SR} = a = \overline{AR} + \overline{SR} \text{ 즉, } \overline{BS} = \overline{AR}$$

$$\overline{BS} + \overline{SR} + \overline{AR} = \overline{BS} + a = 5 \text{ 즉, } \overline{BS} = 5 - a$$

$$\overline{SR} = 5 - 2\overline{BS} = 5 - 2(5 - a) = 2a - 5$$

사다리꼴 PRSQ의 넓이를 $S(a)$ 라 하면,

$$S(a) = \frac{1}{2} \{ (2a - 5) + a \} \left(\frac{37}{5} - \frac{37}{25}a \right)$$

$$= -\frac{111}{50} \left(a - \frac{10}{3} \right)^2 + \frac{37}{6} \left(\frac{5}{2} < a < 5 \right)$$

이므로 $a = \frac{10}{3}$ 일 때, $S(a)$ 의 최댓값은 $\frac{37}{6}$

따라서 $p + q = 43$

